

# 第四单元测试卷


一、连一连。(每线 1 分, 共 6 分)



100 元



10 元



20 元



1 元






50 元





5 元

二、填一填。(每空 2 分, 共 64 分)



1. (1) 1 张  可以换 ( ) 张 .




(2) 1 张  可以换 ( ) 张 .




(3) 1 张  可以换 ( ) 张 .

(4) 1 张  可以换 ( ) 张  和 ( ) 张 .

2. (1)    
( ) 角

(2)     
( ) 元 ( ) 角

(3)     
( ) 元

(4)     
( ) 元 ( ) 角



3. 在○里填上“>”“<”或“=”。

1元○8角

5元2角○56角

7角8分○87分

45分○4元5角

60角○7元

1元○100分

4. 2元=( )角

4元+9元3角=( )元( )角

5元5角+6元8角=( )元( )角

2角+5角=( )角

2角+1元3角=( )元( )角

35分=( )角( )分

5. 填上合适的单位。

(1) 一个书包的价格是70( )。

(2) 买一把尺子用20( )。

(3) 一个玩具熊的价格大约是18( )。

(4) 一块橡皮的价格大约是7( )。

(5) 一个羽毛球的价格是2( )。

三、选一选。(将正确答案的序号填在括号里)(每题2分,共10分)

1. 小红有1元钱,买橡皮用去4角,她还剩( )。

①6元

②6角

③6分

2. 1张5元人民币可换( )张5角纸币。

①5

②8

③10

3. 一支钢笔的价钱是( )。

①3分

②3角



③3元

4. 买一支铅笔用1.50元,买一把尺子用2.40元,一共花了( )。

①3元9角

②3角9分

③3元90角


5. 1张  可以换( )张 .

①5

②10

③20

四、看图回答问题。(每空2分,共8分)



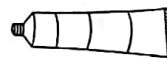
8元





6元



4元




3元

1. 壮壮买了1把 , 至少要拿( )张 .





2. 聪聪买了一个和一个，共需要（ ）元钱。



3. 强强买了两样东西，付给售货员 2 张钱，找回 8 元，她买了（ ）和（ ）。

### 五、解决问题。(1 题 10 分，2 题 2 分，共 12 分)

- 1.
- |   |   |   |   |
|---|---|---|---|
|  |  |  |  |
| 15 元 6 角  | 6 元 4 角   | 5 元   | 14 元  |

(1) 买一辆和一个，一共要付多少钱？

(2) 买一个和一个，一共要付多少钱？

(3) 买一辆比一个多用多少钱？





(4) 小丽拿 20 元买了一个 ，应找回多少钱？

(5) 自己提出一个问题，并解答。

提问：\_\_\_\_\_ 解答：\_\_\_\_\_

2. 小明买一个足球付的钱全是 ，猜猜他付了多少张？



加题 (共 10 分)

